

Opgave 8 – Leefomgeving: Universiteitsstad Leiden

Bij deze opgave horen de bronnen 20 tot en met 22.

Gebruik de bronnen 20 tot en met 22 en het kaartenkatern.

Hieronder staan drie uitspraken over de bronnen 20 tot en met 22.

Uitspraak 1: de reikwijdte van voorzieningen speelt een belangrijke rol bij de totstandkoming van de kaart in bron 20.

Uitspraak 2: zowel het aantal als het aandeel internationale WO-studenten in Leiden neemt toe.

Uitspraak 3: ongeveer de helft van de studenten aan de universiteit in Leiden woont in Leiden.

2p **29** Geef van elke uitspraak aan of deze juist of onjuist is.

Gebruik bron 20.

Op de kaart in bron 20 wordt Leiden niet als primair regionaal centrum aangeduid, maar Dordrecht wel.

2p **30** Beredeneer waarom Leiden niet als primair regionaal centrum aangeduid wordt, maar Dordrecht wel.

Betrek in je redenering beide steden.

Gebruik de bronnen 21 en 22.

De vestiging van een groot aantal studenten in Leiden heeft invloed op de sociale cohesie in de stad.

2p **31** Beredeneer waarom de vestiging van een groot aantal studenten zowel een positieve als een negatieve invloed kan hebben op de sociale cohesie in Leiden.

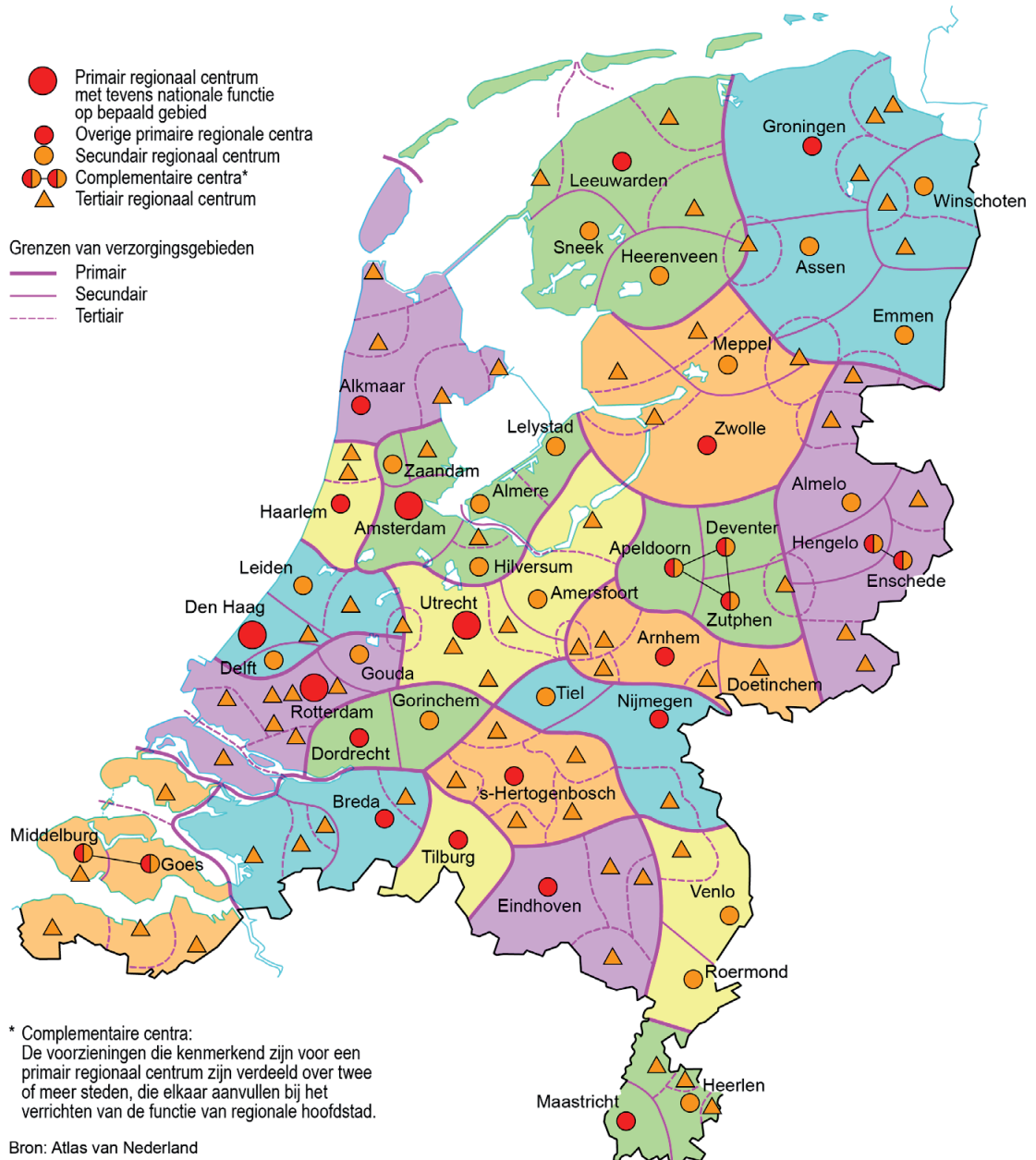
Gebruik de bronnen 21 en 22.

2p **32** Beredeneer dat de ontwikkelingen in Leiden goed aansluiten bij het ruimtelijk beleid ten aanzien van de Randstad zoals dat in de Structuurvisie 2040 beschreven is.

Opgave 8 – Leefomgeving: Universiteitsstad Leiden

bron 20

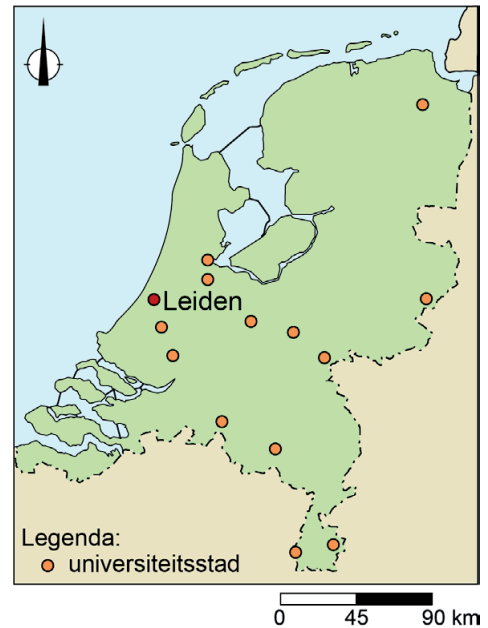
Centrale plaatsen en verzorgingsgebieden



bron 21

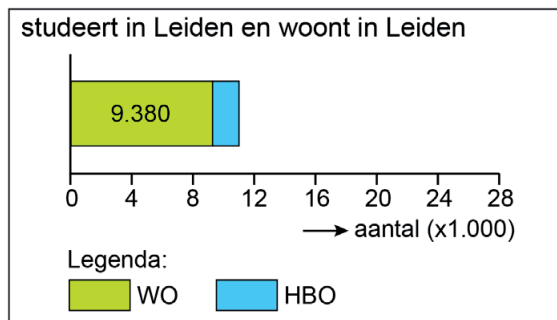
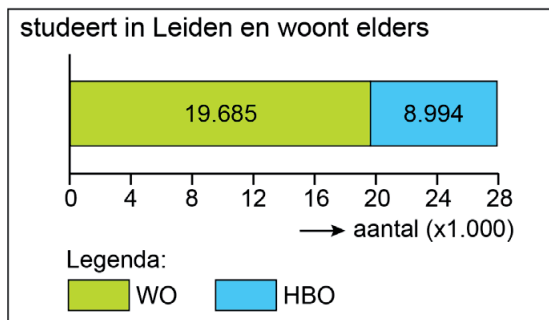
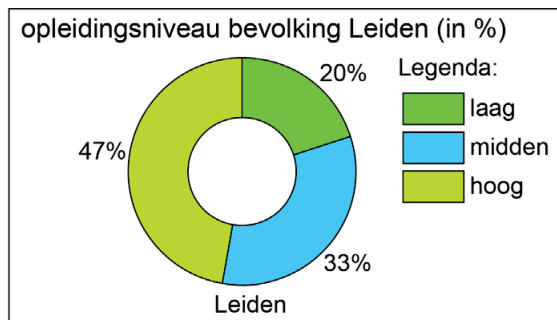
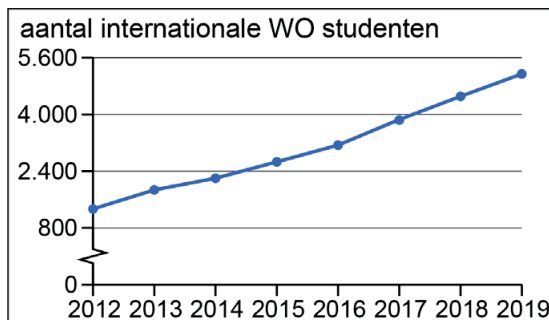
Leiden, European City of Science 2022

Leiden is een van de oudste Europese 'wetenschapssteden' en is uitgeroepen tot European City of Science 2022. De stad is met het Leiden BioScience Park een goed voorbeeld van de verbinding tussen wetenschap en de toepassing daarvan. Jaarlijks studeren ongeveer 40.000 studenten in Leiden. Door de grote internationale bekendheid trekt de universiteit per jaar vele duizenden internationale studenten aan.



bron 22

Studenten en opleidingsniveau in Leiden



Bronvermelding

Een opsomming van de in dit examen gebruikte bronnen, zoals teksten en afbeeldingen, is te vinden in het bij dit examen behorende correctievoorschrift.